


Aufgaben (I) – Differenzialrechnung – Steigung

Aufgabe 1: Berechnen Sie die Steigung:

a)



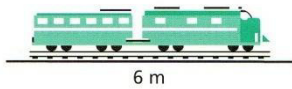
Steigung = _____ =

b)



Steigung = 12 % = _____ =

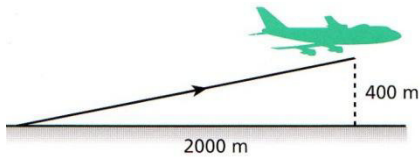
c)



Steigung = _____ =

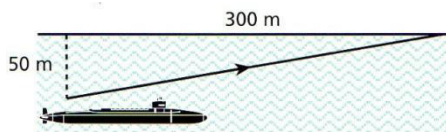
Eine **waagerechte** Gerade hat die Steigung

d)




Steigung =

e)



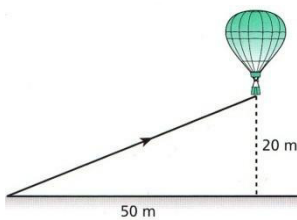
Steigung =

f)



Steigung =

g)



Steigung =

h)



Steigung =

Für eine **senkrechte** Gerade ist die Steigung